

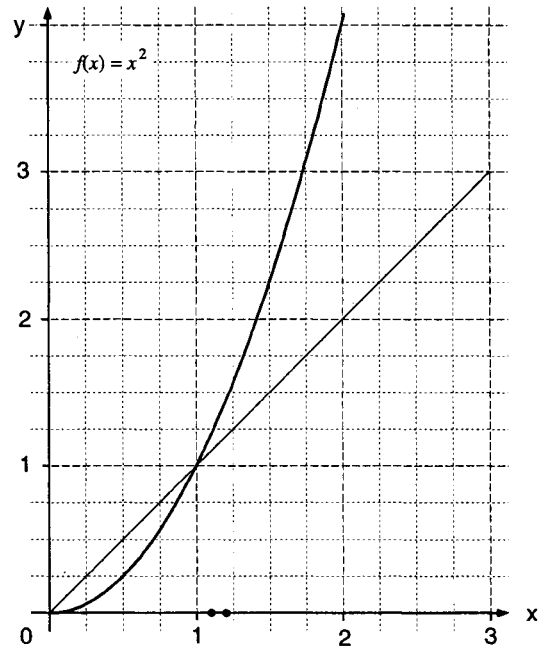
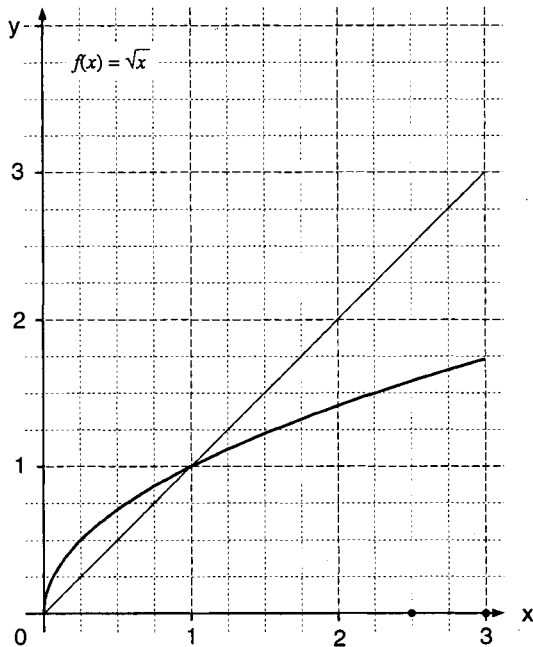
### 9.5.5. Graphische Fehlerfortpflanzung

Eine Ursache für chaotisches Verhalten sind Rundungsfehler bzw. Zeichengenauigkeiten, die bei rechnerischer bzw. graphischer Iteration unvermeidbar sind und bei bestimmten Steigungsverhältnissen fortlaufend verstärkt werden.

- a) Untersuche die Entwicklung des Fehlerintervalls  $[x - \Delta x; x + \Delta x]$  sowohl rechnerisch als auch graphisch auf Kompression oder Expansion:

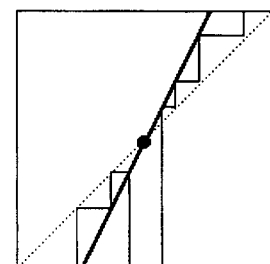
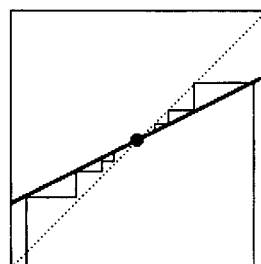
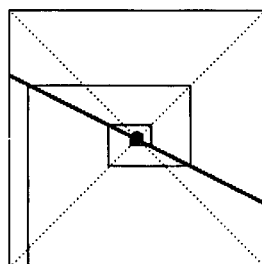
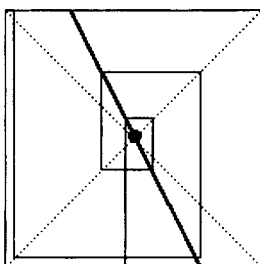
$f(x) = \sqrt{x}$ mit $\Delta x_0 = 0,25$	0	1	2	3
$x - \Delta x =$	3,00			
$x =$	2,75			
$x + \Delta x =$	2,50			
absoluter Fehler $\Delta x$	0,25			

$f(x) = x^2$ mit $\Delta x_0 = 0,05$	0	1	2	3
$x - \Delta x =$	1,20			
$x =$	1,15			
$x + \Delta x =$	1,10			
absoluter Fehler $\Delta x$	0,05			

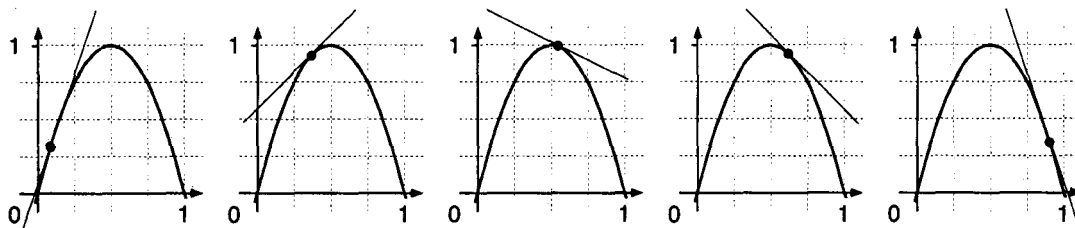


Die Abhängigkeit des Iterationsverhaltens von der Steigung  $a$  wurde in 9.4.1. folgendermaßen beschrieben:

$a < -1$	$-1 < a < 0$	$0 < a < 1$	$1 < a$
Divergenz/Expansion	Konvergenz/Kompression	Konvergenz/Kompression	Divergenz/Expansion
Spirale	Spirale	Treppenlinie	Treppenlinie



Da die Parabel  $f_4(x) = 4x(1 - x)$  alle Steigungsbereiche durchläuft, wechselt auch das Verhalten der Iterationslinie entsprechend:



- b) In den folgenden Abbildungen sind die Stellen mit Steigung 1 bzw. -1 bereits markiert. Schraffiere und beschrifte die Bereiche, in denen Kompression bzw. Expansion zu erwarten ist.
- c) Bei welcher der vier oben gezeichneten Parabeln wird unabhängig vom Startwert das stabilste Iterationsverhalten zu erwarten sein? Welche Parabel wird am ehesten zu chaotischem Iterationsverhalten führen?

